

Desenho e Análise de Algoritmos 2022/2023

Exame Modelo

Duração: 2h

Número mecanográfico:

Nome completo: _____

Grupo 1 - Análise Assintótica (10%)

1.1. Para os pares de funções seguintes, escreva na caixa em branco Θ , \mathcal{O} ou Ω para tornar a afirmação verdadeira. Note que se as funções em causa tiverem uma relação Θ , não deverá escrever \mathcal{O} ou Ω .

$$n^4 = \boxed{} (4^n) \quad 2^n = \boxed{} (2^{n+2}) \quad 42 = \boxed{} 24 \quad \log(\log n^2) = \boxed{} (\log n^2) \quad \sqrt{n} = \boxed{} (\log_4 n)$$

1.2. Previsão de Tempo de Execução.

Imagine que tem um programa que demora **1 segundo** para um dado input. Se o **tamanho do input triplicar**, quanto tempo estima que o programa demore para cada uma das seguintes complexidades?
(pode indicar número aproximado ou uma expressão com variáveis)

Se tiver complexidade **linear**, deverá demorar cerca de segundos.

Se tiver complexidade **linearfítmica**, deverá demorar cerca de segundos.

Se tiver complexidade **quadrática**, deverá demorar cerca de segundos.

Se tiver complexidade **cúbica**, deverá demorar cerca de segundos.

1.3. Dividir para Conquistar.

Considere a seguinte função recursiva cujo objectivo é somar todos os elementos de um array $v[]$ com n números inteiros:

somaArray(v):

Se tamanho(v) = 1 então retorna

$m1 \leftarrow$ somaArray(metade esquerda de v)

$m2 \leftarrow$ somaArray(metade direita de v)

retorna

a) Complete as duas caixas de texto em branco a seguir às instruções **retorna** de modo a tornar o algoritmo correcto para a tarefa de descobrir a soma de todos os elementos do array.

b) Escreva uma recorrência $T(n)$ que descreva o tempo de execução da função recursiva **somaArray(v)**. Pode assumir que a divisão do array em duas metades demora tempo constante.

c) Indique a complexidade temporal da sua função **somaArray(v)**:

Grupo 2 - Ordenação (10%)

2.1. Explique as ideias chave do algoritmo **Counting Sort** e indique a sua complexidade temporal.

2.2. Pesquisa Binária. Tem um array $v[]$ ordenado de forma **decrecente** e que pretende descobrir se um elemento x existe no array. **Escreva o código** necessário para fazer uma pesquisa binária, devolvendo a posição do número no array, ou -1 caso não o encontre. Pode usar pseudo-código, C, C++ ou Java. As posições do array começam em zero.

2.3. Método da Bisseção. Complete os **espaços em branco**.

O método da bisseção usa uma ideia semelhante à pesquisa binária para encontrar . Se o intervalo inicial for $[a, b]$ ($f(a)$ e $f(b)$ de sinais opostos), vai considerar os intervalos e , continuando para o primeiro destes intervalos quando ou para o segundo caso contrário. Ao fim de n iterações, o intervalo válido que o algoritmo considera ficou reduzido de um tamanho inicial de $b - a$ para um tamanho de .

(pode usar o resto desta página para a continuação de respostas dos grupos 1 e 2 que necessitem de mais espaço)

Grupo 3 - Algoritmos Greedy (10%)

3.1. Problema do Troco.

Considere que tem disponíveis uma quantidade "infinita" de moedas de um conjunto de quantias S e que pretende fazer uma quantia K com essas mesmas moedas. **Um algoritmo greedy possível é em cada passo escolher a maior moeda que não faz passar da quantia possível.**

a) Seja $S = \{1, 2, 5, 20, 50, 100, 200\}$ (o conjunto de moedas do euro). O algoritmo greedy iria usar **quantas moedas** para fazer a quantia **143**?

b) O algoritmo greedy nem sempre dá a resposta ótima, ou seja, uma que minimize o número de moedas necessárias. Indique um **contra-exemplo**, ou seja, um conjunto de moedas S e uma quantia k onde o algoritmo falhe:

$S =$ $K =$ N^o Moedas Greedy: N^o Moedas Ótimo:

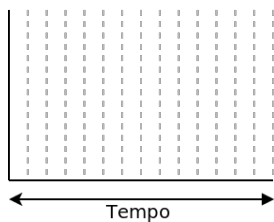
3.2. Interval Scheduling (planeamento de intervalos)

Considere o problema de planeamento de intervalos, onde tem um conjunto de n atividades, cada uma começando no tempo s_i e terminando no tempo f_i . Pretende descobrir **o maior subconjunto de atividades sem sobreposições**.

a) Para cada uma das seguintes **estratégias greedy erradas**, indique um **contra-exemplo** (um caso onde a solução obtida não seja ótima). Desenhe segmentos representando as atividades no tempo, usando letras para as identificar.

[Início mais cedo]

Alocar por ordem crescente de s_i



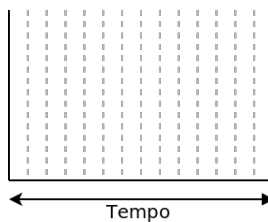
Dá como output o seguinte conjunto:

Um conjunto (válido)

melhor seria:

[Intervalo mais pequeno]

Alocar por ordem crescente de $f_i - s_i$



Dá como output o seguinte conjunto:

Um conjunto (válido)

melhor seria:

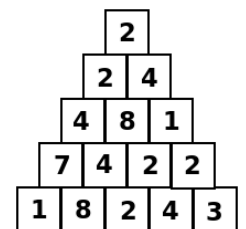
b) Indique uma estratégia greedy que dê sempre **resposta ótima**:

Grupo 4 - Programação Dinâmica (10%)

4.1. Pirâmide de Números.

Considere a pirâmide de números da figura. Queremos ir do topo até à base sendo que de uma posição apenas se pode ir para uma das duas posições adjacentes imediatamente abaixo.

a) Quantos **caminhos diferentes** existem entre o topo e a base? Justifique a sua resposta.



b) Imagine que quer descobrir o n^o caminhos diferentes entre topo e base **passando apenas por números pares**.

Para resolver este problemas pode usar **programação dinâmica** e uma **matriz auxiliar**.

Indique uma definição recursiva, como preencheria a matriz para este exemplo, onde ficaria a resposta e qual o número de caminhos que descobriu.

Matriz auxiliar $m[5][5]$

Definição recursiva da solução: $m(x, y) =$

Onde fica a resposta final na matriz m ?

N^o caminhos passando só por números pares:

Grupo 5 - Árvores Binárias de Pesquisa Equilibradas (10%)

5.1. Explique as ideias chave de uma **árvore AVL**, indicando que restrições impõe, como mantém essas propriedades e quais as suas complexidades temporais para uma inserção ou remoção.

5.2. Indique **uma vantagem e uma desvantagem** das árvores AVL em relação às árvores Red-Black.

(pode usar o resto desta página para a continuação de respostas dos grupos 3, 4 e 5 que necessitem de mais espaço)

Grupo 6 - Conceitos de Grafos (5%)

6.1. Explique o que é o **diâmetro** de um grafo e desenhe um grafo com diâmetro 3 onde todos os nós têm grau > 1.

6.2. Representação de Grafos

Complete cada uma das caixas em branco com as palavras **LISTA** ou **MATRIZ** para indicar se a resposta deve ser uma lista de adjacências ou uma matriz de adjacências.

ocupa menos memória

é melhor para verificação se existe ligação entre um par de nós

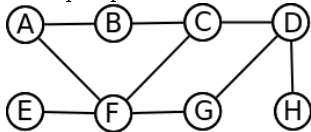
é melhor para remover uma única aresta

é melhor para apagar todas as arestas ligadas a um dado nó

Grupo 7 - Pesquisas em Profundidade e em Largura (15%)

7.1. Conceitos Básicos

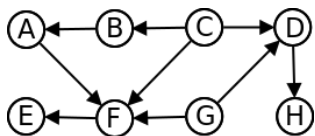
a) Considere o grafo da figura seguinte. Imagine que **começa uma pesquisa no vértice G** e que os nós vizinhos são sempre **percorridos por ordem alfabética**. Indique a **ordem** em que os nós seriam visitados se fosse usada uma pesquisa em:



Profundidade:

Largura:

7.2. **Ordenação Topológica.** Indique duas possíveis ordenações topológicas para o grafo seguinte:

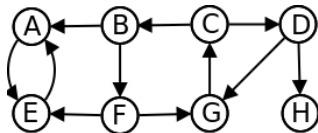


Duas Ordenações topológicas:

1)

2)

7.3. **Componentes Fortemente Conexas.** Indique os componentes fortemente conexos (CFCs) do grafo seguinte:



Nº CFCs:

Nós de cada CFC:

7.4. Código de Pesquisa em Profundidade

Escreva (em código ou pseudo-código) uma função $dfs(G, v)$ para fazer uma pesquisa em profundidade a partir do nó v de um grafo G . **A função deve devolver o número de nós que foram visitados.**

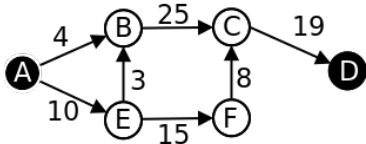
7.5. Código de Pesquisa em Largura

Escreva (em código ou pseudo-código) uma função $bfs(G, v, u)$ para fazer uma pesquisa em largura a partir do nó v de um grafo não pesado G . **A função deve devolver a distância de v a u .**

(pode usar o resto desta página para a continuação de respostas dos grupos 6 e 7 que necessitem de mais espaço)

Grupo 8 - Distâncias Mínimas (10%)

8.1. Algoritmo de Dijkstra. Considere o grafo da figura seguinte.



a) Aplique manualmente o algoritmo de **Dijkstra** supondo que começa a partir do nó **(A)**. A primeira linha da tabela indica com que valores deve iniciar a estimativa de distância de cada nó ao nó inicial.

Iteração	Nó Escolhido	Nó Predecessor (pai)	Estimativa de distância ao nó A (depois de relaxadas as arestas do nó escolhido)					
			A	B	C	D	E	F
Inicialização	_____	_____	0	∞	∞	∞	∞	∞
1ª	A	_____						
2ª								
3ª								
4ª								
5ª								
6ª								

b) Qual é a distância mínima que o algoritmo de Dijkstra calculou de **(A)** para **(D)**?

Qual é o caminho que dá origem a essa distância?

c) Qual a complexidade temporal do Dijkstra se usarmos heaps?

8.2. Algoritmo de Bellman-Ford.

Considere o seguinte pseudo-código incompleto para usar o algoritmo de **Bellman-Ford** no grafo G a partir do nó s .

Bellman-Ford(G, s):

Para todos os nós v de G fazer: $v.dist \leftarrow \infty$

$s.dist \leftarrow 0$

Para $i \leftarrow 1$ até fazer:

Para todas as arestas (u, v) de G fazer:

a) Complete os espaços em branco de cima com código ou pseudo-código.

b) Justifique o valor que colocou na primeira caixa (limite do ciclo de i), explicando porque não pode ser um número menor, e porque é que um número maior seria escusado.)

Grupo 9 - Árvores de Suporte de Custo Mínimo (MST) (5%)

9.1. Algoritmo de Prim adiciona um nó de cada vez para formar uma MST. Supondo que começava no nó **(A)**, indique qual a sucessão de nós que vai sendo adicionada pelo algoritmo até formar uma MST no grafo da figura.

1º nó adicionado: através da aresta

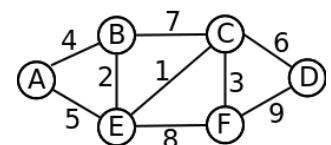
4º nó adicionado: através da aresta

2º nó adicionado: através da aresta

5º nó adicionado: através da aresta

3º nó adicionado: através da aresta

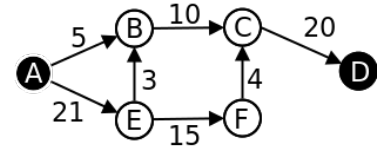
Qual é o custo da árvore mínima de suporte no grafo dado?



Grupo 10 - Fluxo Máximo (10%)

10.1. Método de Ford-Fulkerson.

a) Imagine que quer descobrir o **fluxo máximo** entre A e D no grafo do lado. Aplique o método de **Ford-Fulkerson** por 2 iterações, indicando em cada passo o que fez. No **grafo residual** deve desenhar as arestas e os respectivos pesos depois de aplicado o caminho de aumento que indicou.

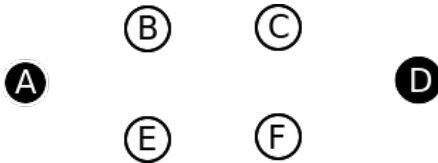


1ª Iteração

Caminho de aumento:

Valor do fluxo aplicado no caminho indicado:

Grafo residual:

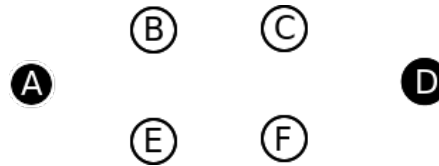


2ª Iteração

Caminho de aumento:

Valor do fluxo aplicado no caminho indicado:

Grafo residual:



b) No final das 2 iterações, qual o valor do **fluxo total** entre A e D ?

c) O fluxo que indicou é o **fluxo máximo**? Justifique.

(pode usar o resto desta página para a continuação de respostas dos grupos 8, 9 e 10 que necessitem de mais espaço)

--	--	--	--	--	--	--	--	--

Grupo 11 - Perguntas de Valorização (5%)

11.1. Esboce uma **prova da correção** da escolha greedy que indicou na pergunta 3.2.b (repita o essencial da escolha aqui: esta folha será corrigida separadamente).

11.2. Imagine que quer calcular o **maior número de caminhos** entre u e v num grafo G que **não repitam nenhum nó** (ao invés de simplesmente não repetir arestas). Seria possível usar um algoritmo de fluxo máximo? Justifique, indicando como proceder.

(pode usar o resto desta página para a continuação de respostas do grupo 11 que necessitem de mais espaço)

(pode usar esta página para a continuação de respostas do grupo 11 que necessitem de mais espaço)